



РОЗКВІТЛІ КВІТОЧКИ

Ромчик полив квітник, і на ньому з'явилися гарні квіточки.

Зафарбуй квітку, що в лівому верхньому кутку, червоним кольором; у правому нижньому — жовтим; у лівому нижньому — блакитним; у правому верхньому — рожевим. Посередині квітника посади іще одну квітку.





Оціни свою роботу: ☹️ або 😊 .




ДРАБИНКИ

Уважно роздивись драбинку, що в рамці. Скільки шаблів у неї? Допоможи Ганнусі знайти з-поміж інших таку саму.

Закресли драбинки, коротші за ту, що в рамці. Розфарбуй таку саму драбинку.



Оціни свою роботу: ☹️ або 😊.



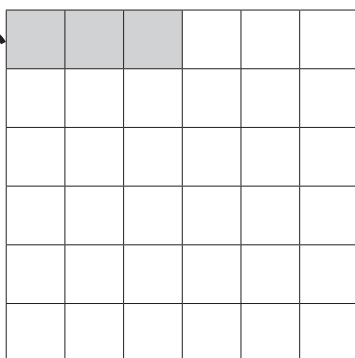
ВИМІРЯЙ ДОВЖИНУ

У кожному рядку зафарбуй клітинки таким чином, щоб вийшли смужки різної довжини. Скільки клітинок міститиме найкоротша смужка? А найдовша? З'єднай цифри зі смужками.

3

5

2




1

6




4

Оціни свою роботу: ☹️ або 😊.




ПОРІВНЯННЯ ЗА ЄМНІСТЮ

Роздивись пари кухлів. У які вміститься більше води? Яку пару кухлів важко порівняти за ємністю? Розфарбуй кухлі, ємність яких більша.

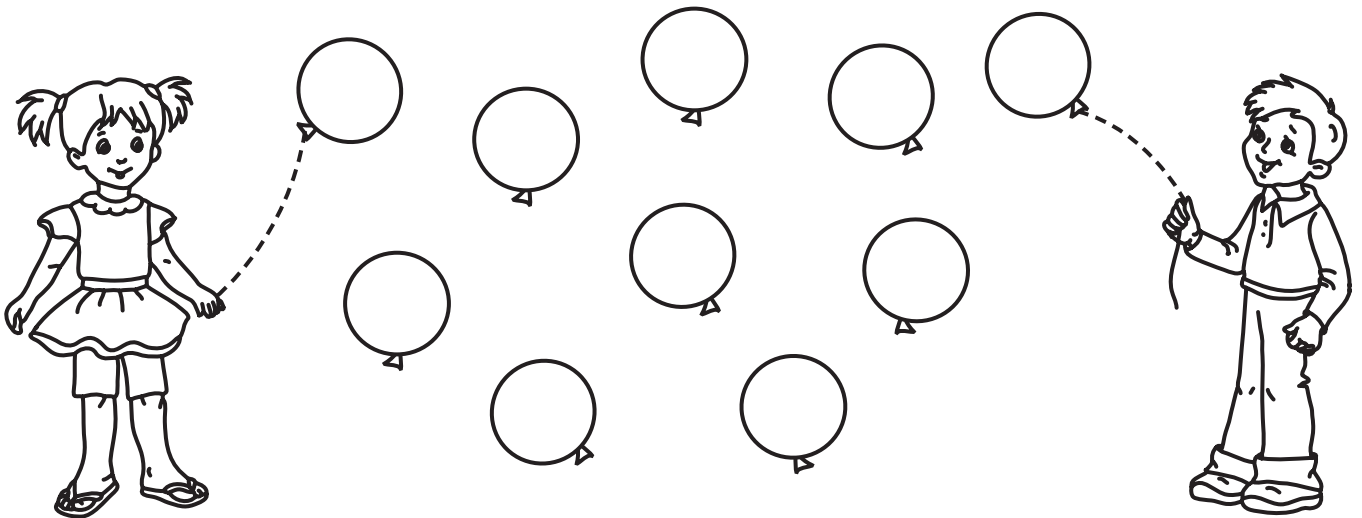


Оціни свою роботу: 😞 або 😊.




ПОВІТРЯНІ КУЛЬКИ

Роздай Петрикові та Марійці по 5 повітряних кульок. Розфарбуй усі кульки Марійки одним кольором, а Петрика — іншим.

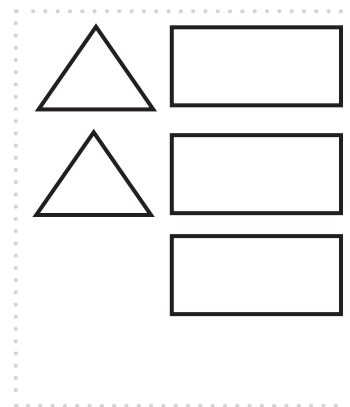
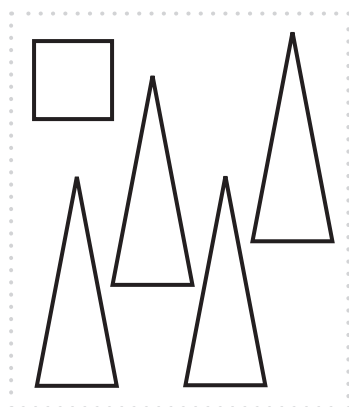
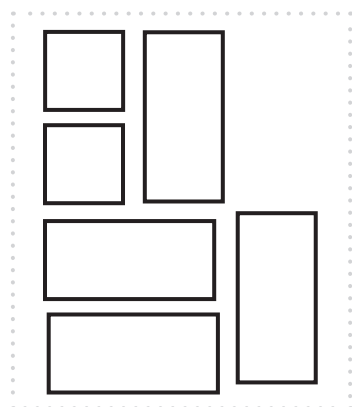
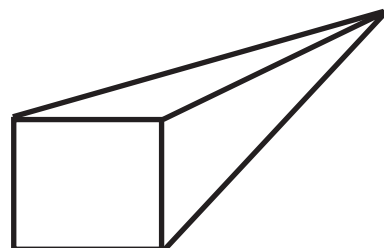
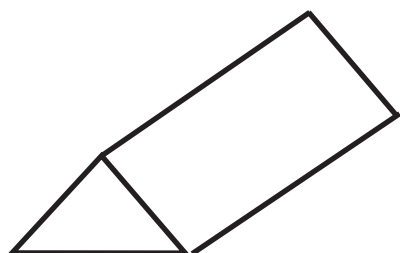


Оціни свою роботу: 😞 або 😊.




ЧИЇ СЛІДИ?

Геометричні фігури лишили на аркуші паперу відбитки усіх своїх сторін. Знайди «паспорт» кожної фігури та з'єднай лінією.

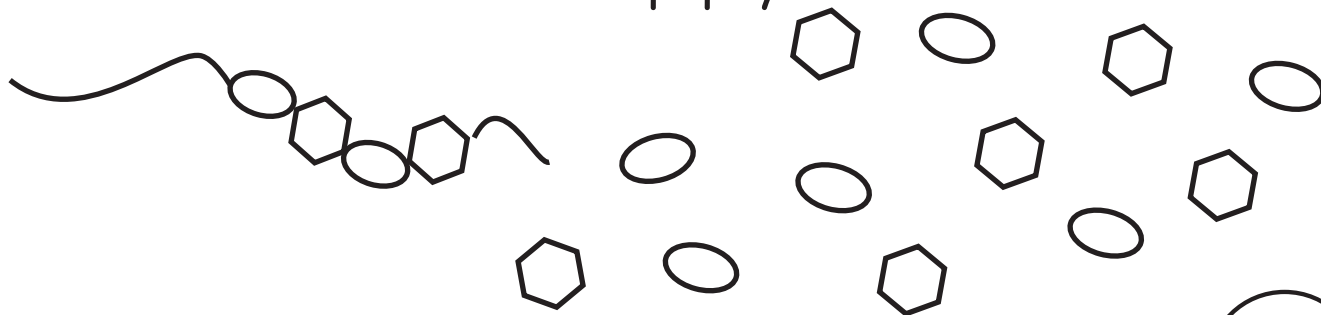


Оціни свою роботу: 😞 або 😊.




ЗБЕРИ НАМИСТО

Нанизай на ниточку намистинки, що розсипалися. Дотримайся правильної послідовності. Яка намистинка остання? Познач її. Розфарбуй намисто.



Оціни свою роботу: 😞 або 😊.



ЗНАЙДИ ЧИСЛА


Постав у порожні клітинки певну кількість крапок замість цифр, що загубилися.

1	2		4		6
---	---	--	---	--	---

3		5		5	6
---	--	---	--	---	---



2	4	
---	---	--

Оціни свою роботу: ☹️ або 😊.




ПОРІВНЯЙ ЄМНОСТІ

У червону каструлю увійшло 4 склянок води, а в синю — 6. Ємність якої каструлі більше? Розфарбуй їх, відповідно до позначок.











Оціни свою роботу: ☹️ або 😊.




ЗАФАРБУЙ КВІТОЧКИ

Роздивись уважно таблицю та розфарбуй квіти відповідно до вказівок щодо кольору серединки та пелюсток.

	жовта 	червона 
сині 		
рожеві 		

Оціни свою роботу:  або .



СИМВОЛИ

Уважно роздивись символи, якими позначено розмір та форму фігур. Намалюй фігури відповідно до заданих символів.

великий — T

маленький — ⊥

коло — ☺

трикутник — ●●●

квадрат — ●●●●

